

۱- چرا رانندگی در شب مشکل تر است؟

الف) وجود میدان دید طبیعی و کمتر

ب) عدم تشخیص فاصله و سرعت وسایل نقلیه

ج) کم شدن تشخیص عابر پیاده


د) همه موارد 

۲- برای استفاده از ترمز در حین رانندگی بهتر است؟

الف) پا همواره آماده برای ترمز گرفتن باشد.

ب) تمام کف پا را روی پدال ترمز قرار دهید.

ج) پاشنه پا را روی کف اتومبیل گذاشته و با پنجه پدال ترمز را

فشار دهید. 

د) با کف پا ترمز را به آهستگی فشار داده و همزمان کلاچ بگیرید.

۳- مفهوم تابلوی زیر چیست؟

الف) تقاطع بدون راه بند

ب) تقاطع راه آهن با راه بند

ج) تقاطع راه آهن بدون راه بند

د) تقاطع با راه آهن 

۴- رانندگان هنگام مشاهده این خطوط چه کاری باید انجام دهند؟

الف) با سرعت عبور کنید.

ب) به راست گردش کنید.

ج) به چپ گردش کنید.

د) توقف کامل نمایید و با رعایت احتیاط

سرعت کم و رعایت حق تقدم عبور کنید. 



۵- نحوه گرفتن صحیح فرمان اتومبیل در حالت معمول کدام است؟

الف) با یک دست به فرمان و با دست دیگر دنده را می گیریم.

ب) با هر دو دست و از خارج فرمان را می گیریم. 

ج) با یک دست خارج فرمان و با دست دیگر داخل فرمان را می گیریم.

د) با هر دو دست فرمان را در پایین نگه می داریم.

۶- ترتیب کدام یک از پاسخ های زیر برای روشن کردن اتومبیل صحیح است؟

الف) خلاص کردن دنده، تنظیم صندلی، بستن کمربند، روشن کردن

ب) تنظیم آینه ها، خلاص کردن دنده و روشن کردن

ج) گرفتن کلاچ، خلاص کردن دنده و روشن کردن 

د) هیچکدام


۸- میخ های زرد چشم گربه ای در چه قسمتهایی نصب می شود؟

الف) در مسیرهای ورودی و خروجی و باندهای کاهش و افزایش سرعت

ب) بین شانه خاکی و باند اصلی

ج) بین هر دو باند مجاز


د) غالباً در مسیر رفت و برگشت جادهها و در سمت چپ مسیر (یا بین

محل خالی وسط آزاد راه و باند اصلی) 

۷- پس از روشن شدن موتور و آماده بودن برای حرکت ابتدا باید کدام

عمل را انجام داد؟

الف) ابتدا کمربند ایمنی خود را ببندید و مطمئن شوید که سرنشینان نیز

کمربند ایمنی خود را بسته اند. 

ب) ترمز دستی را خلاص کنید.

ج) در حالی که با پای راست ترمز را گرفتیم با پای چپ کلاچ را فشار میدهیم.

د) ترمز پایی را چند بار فشار دهیم تا از سلامت ترمز پایی مطمئن شویم.

۹- تنظیم صندلی برای چیست؟

الف) تسلط بر فرمان پدال های گاز ترمز و کلاچ و دنده

ب) میدان دید طبیعی

ج) گزینه یک و دو

د) نقطه ی کور برای راننده از بین می رود.

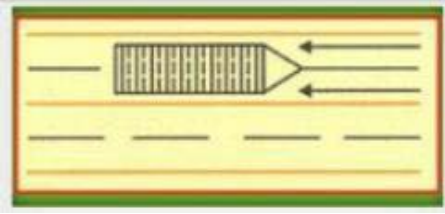
۱۰- خطوط هاشور زیر به چه معنا می باشد؟

الف) موانع در راه است

ب) سرعت

ج) توقف کامل

د) گردش به راست



۱۱- منظور از خط زرد رنگ زیگزاگ در حاشیه خیابان چیست؟

الف) مخصوص توقف اتومبیل

ب) توقف کوتاه آزاد است.

ج) ایستادن روی آن ممنوع است.

د) گزینه ۱ و ۲

۱۲- در چه زمان از دور دو فرمانه میتوان استفاده کرد؟

الف) عرض راه محدود باشد.

ب) تقاطع های کوچک

ج) رسیدن به موانع در خیابانهای کم عرض

د) وارد شدن به کوچه بن بست

۱۳- در شکل مقابل حق تقدم عبور با کدام وسیله است؟

الف) ماشین سفید

ب) ماشین مشکی

ج) ماشین قرمز

د) ماشینی که سرعتش بیشتر است.



۱۴- یکی از راه های کاهش مصرف سوخت کدام است؟

الف) حرکت با سرعت زیاد

ب) عدم تنظیم موتور

ج) تنظیم باد تایرها

د) باز کردن ترموستات خودرو در تابستان

۱۶- در وضعیت راه خشک و هوای خوب فاصله بین شما و اتومبیل جلویی

... می باشد؟

الف) ۴ ثانیه

ب) ۲ ثانیه

ج) ۱ ثانیه

د) ۳ ثانیه

۱۵- گواهینامه رانندگی را بنا به درخواست چه کسی باید ارائه نمود؟

الف) مکانیک

ب) بازرس اتومبیل

ج) پلیس ترافیک

د) مأمور کنترل راه

۱۷- مفهوم تابلو را بگویید؟

- الف) آزاد راه
- ب) پایان راه
- ج) خیابان اصلی
- د) گذرگاه



۱۸- تابلوهای گذرگاه عابر پیاده کدام گزینه می باشد؟

- الف) شکل شماره ۱
- ب) شکل شماره ۲
- ج) شکل شماره ۳
- د) شکل شماره ۴



۱۹- هنگامی که پلیس راهنمایی دست خود را از موازات شانه پایین و بالا

ببرد به چه معنا است؟

- الف) رانندگان با سرعت عبور کنند.
- ب) رانندگان بایستند.



ج) رانندگان وسایل نقلیه در حال حرکت از سرعت

خود بکاهند.

د) بعد از عبور پشت سر او بایستند.

۲۰- تابلوها در آزاد راه ها به رنگ ... هستند؟

- الف) آبی
- ب) قرمز
- ج) سفید
- د) سبز

۲۲- قصد دارید تا منزل رانندگی کنید عینک خود را جهت رانندگی لازم

دارید را پیدا نمیکنید چه باید انجام دهید؟

الف) از مسیرهای خلوت به آرامی برانید.

ب) از عینک یکی از دوستان استفاده کرده تا منزل رانندگی کنید.

ج) به هنگام شب رانندگی کنید تا اینکه نور معابر به شما کمک کنند.

د) باید به طریقی به منزل بروید که به رانندگی نیاز نباشد.

۲۱- جهت رانندگی خوب باید از چه فاصله ای پلاک اتومبیل ها را بخوانید؟

الف) از فاصله ۱۵ متری

ب) از فاصله ۱۰ متری

ج) از فاصله ۲۰ متری

د) از فاصله ۲۵ متری

۲۴- تابلوی زیر به چه معنا می باشد؟

- الف) خیابان اصلی
- ب) ورود ممنوع
- ج) ایستادن ممنوع
- د) رعایت حق تقدم



۲۳- تابلوی زیر یعنی؟

الف) حداکثر سرعت ۳۰ کیلومتر

ب) حداقل سرعت ۳۰ کیلومتر

ج) پایان حداقل سرعت ۳۰ کیلومتر

د) پایان حداکثر سرعت ۳۰ کیلومتر



۲۵- تابلوی زیر چیست؟

الف) راه یک طرفه

ب) خیابان یک طرفه

ج) فقط عبور به راست مجاز

د) فقط عبور مستقیم مجاز



۲۶- مفهوم تابلوی زیر چیست؟

الف) منطقه ایستادن ممنوع

ب) توقف ممنوع

ج) ایستادن ممنوع

د) ایست



۲۷- در چه فاصله ای از ورودی و خروجی مراکز آتش نشانی پلیس و

بیمارستانها توقف ممنوع است؟

الف) ۵ متر

ب) ۲۰ متر

ج) ۱۵ متر

د) ۷۰ متر

۲۸- در شکل زیر حق تقدم با ... می باشد؟

الف) خودرو سفید

ب) عابر پیاده

ج) خودرو مشکی

د) خودرو قرمز



۲۹- کدام تابلو به معنای پرتاب سنگ می باشد؟

الف) شکل شماره ۱

ب) شکل شماره ۲

ج) شکل شماره ۳

د) شکل شماره ۴



۳۰- کم بودن باد لاستیک بر کدام مورد زیر اثر میگذارد؟ آن را مشخص کنید.

الف) ترمز کردن و هدایت و کار فرمان

ب) تعویض دنده

ج) گرم شدن موتور

د) نیروی موتور

